

間違いやタイプミスが満載だと思えます。参考程度に利用してください。

令和6年度京都府公立高等学校入学者選抜
中期選抜学力検査

共通学力検査 数学

1

- (1) $6 - 2 \times (-5^2)$
 $= 6 - 2 \times (-25)$
 $= 6 + 50$
 $= 56$
- (2) $\frac{2}{3}(6x + 3y) - \frac{1}{4}(8x - 2y)$
 [ここでは分配しましょう]
 $= \frac{2}{3} \times 6x + \frac{2}{3} \times 3y - \frac{1}{4} \times 8x + \frac{1}{4} \times 2y$
 $= 4x + 2y - 2x + \frac{1}{2}y$
 $= 4x - 2x + 2y + \frac{1}{2}y$
 $= (4 - 2)x + (2 + \frac{1}{2})y$
 $= 2x + (\frac{4}{2} + \frac{1}{2})y$
 $= 2x + \frac{5}{2}y$

⇒注 $\frac{4x + 5y}{2}$ と答えてもよい。

- (3) $\sqrt{32} - \frac{16}{\sqrt{2}} + \sqrt{18}$
 $= 4\sqrt{2} - \frac{16\sqrt{2}}{\sqrt{2} \times \sqrt{2}} + 3\sqrt{2}$
 $= 4\sqrt{2} - \frac{16\sqrt{2}}{2} + 3\sqrt{2}$
 $= 4\sqrt{2} - 8\sqrt{2} + 3\sqrt{2}$
 $= (4 - 8 + 3)\sqrt{2}$
 $= -\sqrt{2}$

(4) [ふつう、代入する式を展開して簡単にしますが、ここでは $x - y$ をひとまとめにして因数分解します]

$x = 7, y = -6$ であるから
 $x - y = 7 - (-6) = 7 + 6 = 13$

よって
 $(x - y)^2 - 10(x - y) + 25$
 $= \{(x - y) - 5\}^2$
 $= (13 - 5)^2 = 8^2 = 64$

⇒注 $x - y = X$ とおいてもよい。

$$\begin{aligned} & (x - y)^2 - 10(x - y) + 25 \\ & = X^2 - 10X + 25 \\ & = (X - 5)^2 \\ & = (x - y - 5)^2 \\ & = \{7 - (-6) - 5\}^2 \\ & = (7 + 6 - 5)^2 \\ & = (13 - 5)^2 = 8^2 = 64 \end{aligned}$$

(5) [左辺 = 0 に整理して、因数分解 (ここでは x でくる) しよう]

$$\begin{aligned} 8x^2 & = 22x \\ 8x^2 - 22x & = 0 \\ \text{両辺を 2 で割って} \\ 4x^2 - 11x & = 0 \\ x(4x - 11) & = 0 \end{aligned}$$

よって $x = 0, 4x - 11 = 0$

第2式から

$$4x = 11 \quad \text{つまり} \quad x = \frac{11}{4}$$

ゆえに $x = 0, \frac{11}{4}$

(6) [y が x の2乗に比例するとき、 $y = ax^2$ (a は比例定数) と表せます]

y は x の2乗に比例するから

$$y = ax^2 \quad (a \text{ は比例定数}) \dots\dots \textcircled{1}$$

と表すことができる。

$x = 3$ のとき $y = -54$ であるから、 $\textcircled{1}$ に代入して

$$\begin{aligned} -54 & = a \times 3^2 \\ -54 & = a \times 9 \\ 9a & = -54 \\ a & = -6 \end{aligned}$$

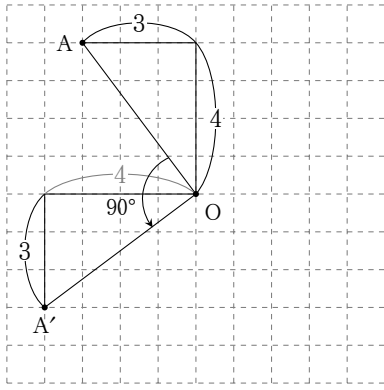
よって、答えは $y = -6x^2$

(6) [それぞれの点を右周りに 270° または左周りに 90° 回転させよう]

[わかりやすくするため、1点ずつ回転させる]

時計回りに 270° だけ回転移動させることは、反時計回りに 90° 回転させることと同じである。したがって、**以下、反時計回りに 90° 回転させる。**

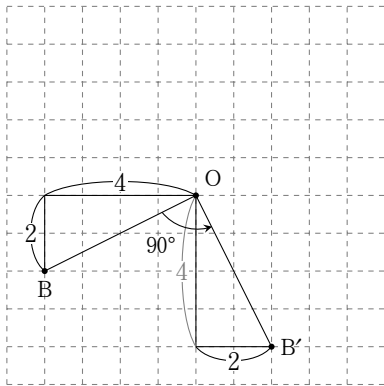
点A (点O から上に4, 左に3) を左回りに 90° 回転させた点を A' とする。 A' は点O から左に4, 下に3だから次のようになる。



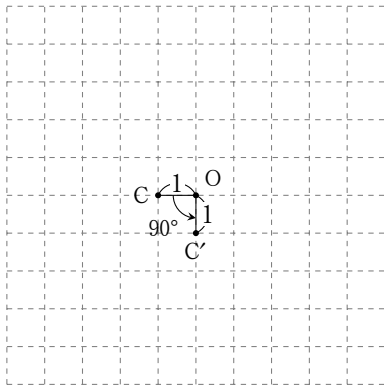
B, Cについても同じ様に回転移動させる。

B, Cを左回りに90°回転させた点をそれぞれB', C'とする。

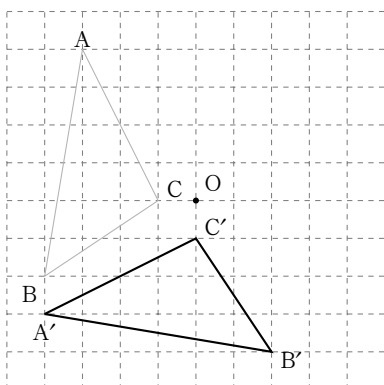
点Bは点Oから左に4, 下に2に進んだ点だから, 次のようになる。



点Cは点Oから左に1進んだ点だから, 次のようになる。



したがって, 移動させた図形は次の△A'B'C'である。



注 目盛りをしっかり数えよう。

(7) [慎重に数え上げよう]

2つの赤玉を「あ₁」, 「あ₂」, 2つの白玉を「し₁」, 「し₂」, 黒玉を「く」とする。以下「」は省略する。

取り出した順に(あ₁, あ₂)のように書くと, すべての取り出し方は次のように20通りある。これら20通りの取り出し方は同様に確からしい。

(あ₁, あ₂), (あ₁, し₁), (あ₁, し₂), (あ₁, く),
 (あ₂, あ₁), (あ₂, し₁), (あ₂, し₂), (あ₂, く),
 (し₁, あ₁), (し₁, あ₂), (し₁, し₂), (し₁, く),
 (し₂, あ₁), (し₂, あ₂), (し₂, し₁), (し₂, く),
 (く, あ₁), (く, あ₂), (く, し₁), (く, し₂)

この中で, 2個の玉の色が同じになるのは

(あ₁, あ₂), (あ₂, あ₁), (し₁, し₂), (し₂, し₁)
 の4通り。

したがって, 2個の玉が異なるのは20 - 4 = 16通り。

したがって, 答えは $\frac{16}{20} = \frac{4}{5}$

2

(1)

30分以上40分未満の生徒は8人,

40分以上50分未満の生徒は8人,

50分以上60分未満の生徒は9人,

60分以上70分未満の生徒は8人,

70分以上80分未満の生徒は9人,

80分以上90分未満の生徒は10人

いるから, 答えは

$$8 + 8 + 9 + 8 + 9 + 10 = 16 + 17 + 19 = 52 \text{人}$$

[ヒストグラム, 箱ひげ図の見比べは, 最大値・最小値, 各四分位数, 四分位範囲などに注意する]

最大値は110分以上120分未満だから, (ア)か(イ)

である。(ア)と(イ)の違いは, 第3四分位数である。

全員で120人であるから, 上位から数えて30番目と

31番目の平均が第3四分位数である。ヒストグラムで

30番目と31番目は90分以上100分未満に含まれる。

したがって答えは(ア)である。

(2) [箱ひげ図からは正確な人数はわからないが, 人数に

よっては各四分位数に相当する生徒がいる場合がある。

選択肢を1つずつ見ていくしかない]

以下, 数値はおおよその値であることに注意されたい。

(ア) 中央値68点は15番目と16番目の平均値だから,

60分以上70分未満の人数が0でも, 15番目が59分,

16番目が77分とすると中央値は $\frac{59 + 77}{2} = 68$ 点

になる。したがって, 正しくない。

(イ) 第3四分位数 88分は上位から上位8番目だから、80分以上の生徒は8人以上いる。したがって、正しい。

(ウ) 確かに最大値は115分であるが、人数は不明であるから正しくない。

(エ) D組は0分以上40分未満の生徒の人数は7人以下、他の組は第1四分位数(←下位から8番目)が30以下であるから、該当する生徒は8人以上いる。したがって、正しくない。

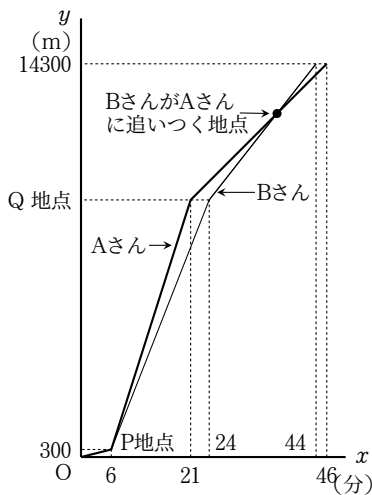
(オ) 四分位範囲(第3四分位数 - 第1四分位数)は、A組が $100 - 22 = 78$ 分、C組が $86 - 12 = 74$ 分であり、他の組はそれらより小さい。また、データの範囲(=最大値 - 最小値)は

- A組 $103 - 8 = 95$
- B組 $112 - 11 = 101$
- C組 $115 - 8 = 107$
- B組 $107 - 3 = 104$

したがって、A組が最も小さいから、(オ)は正しい。以上から、答えは (イ), (オ)

3

問題文の情報を考慮してグラフを描くと次のようになる。



(1) Aさんは分速600mで $21 - 6 = 15$ 分走ったので、P地点からQ地点までの道のりは

$$600 \times 15 = 9000\text{m}$$

スタート地点からQ地点までは $300 + 9000 = 9300\text{m}$ 、ゴール地点までは14300mである。

$21 \leq x \leq 46$ のとき、Aさんの速さは一定だから、グラフは直線になる。直線の方程式を $y = ax + b$ とおく。

$x = 21$ のとき $y = 9300$ 、 $x = 46$ のとき $y = 14300$ で

あるから、

$$\begin{cases} 9300 = 21a + b \dots\dots ① \\ 14300 = 46a + b \dots\dots ② \end{cases}$$

① - ②より

$$\begin{aligned} -5000 &= -25a \\ 25a &= 5000 \\ a &= 200 \end{aligned}$$

$a = 200$ を①に代入して

$$\begin{aligned} 9300 &= 21 \times 200 + b \\ 9300 &= 4200 + b \\ 4200 + b &= 9300 \\ b &= 5100 \end{aligned}$$

したがって $y = 200x + 5100$

(2) Bさんについても、スタートしてから x 分後の、Bさんがスタート地点から進んだ道のりを y として、 $24 \leq x \leq 46$ のときの y を x で表そう。

BさんがPQ間にかかった時間は

$$9000 \div 500 = 18\text{分}$$

したがってBさんは、スタートしてから $6 + 18 = 24$ 分後に地点Qに到達した。

また、地点Qからゴール地点までのAさんの速さはBさんの速さの $\frac{4}{5}$ 倍であることと、そのときのAさんの速さが分速

$$\frac{14300 - 9300}{46 - 21} = \frac{5000}{25} = 200\text{m}$$

であることから、Bさんの速さは毎分

$$200 \times \frac{5}{4} = 250\text{m}$$

であることがわかる。

したがって、Bさんについて $y = 250x + c$ とおくと、 $x = 24$ のとき $y = 9300$ だから

$$\begin{aligned} 9300 &= 250 \times 24 + c \\ 9300 &= 6000 + c \\ 6000 + c &= 9300 \\ c &= 3300 \end{aligned}$$

したがって $y = 250x + 3300$

$24 \leq x \leq 46$ のとき、AさんはBさんに追いつかれるから、そのときの x は次の連立方程式の解である。

$$\begin{cases} y = 200x + 5100 \dots\dots ③ \\ y = 250x + 3300 \dots\dots ④ \end{cases}$$

③を④に代入して

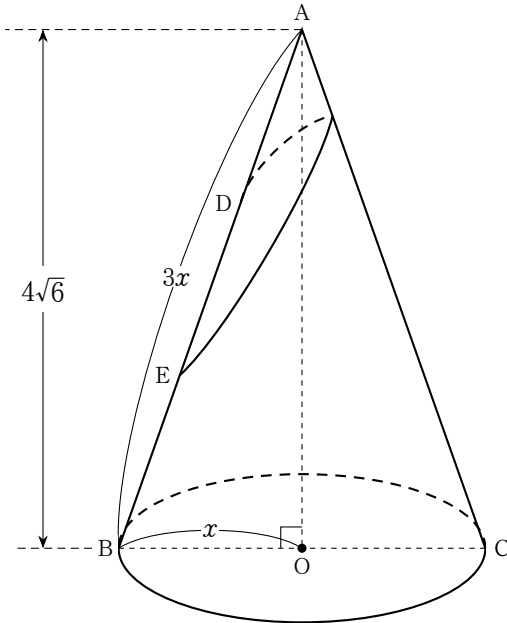
$$\begin{aligned} 200x + 5100 &= 250x + 3300 \\ 200x - 250x &= 3300 - 5100 \\ -50x &= -1800 \\ x &= 36 \end{aligned}$$

よって、AさんがBさんに追いつかれたときの、スタート地点から進んだ道のりは、③に $x = 36$ を代入して

$$y = 200 \times 36 + 5100 = 7200 + 5100 = \mathbf{12300m}$$

である。

4



底面の円の中心をOとする。条件
 $AB : BC = 3 : 2$

より、

$$AB : BO = 3 : 1 \dots\dots \textcircled{1}$$

よって、底面の半径を x とすると、①から $AB = 3x$
 また、 $AO = 4\sqrt{6}$ であるから、 $\triangle OAB$ で三平方の定理を用いると

$$\begin{aligned} AO^2 + BO^2 &= AB^2 \\ (4\sqrt{6})^2 + x^2 &= (3x)^2 \\ 16 \times 6 + x^2 &= 9x^2 \\ 96 + x^2 &= 9x^2 \\ -8x^2 &= -96 \\ x^2 &= 12 \end{aligned}$$

$x > 0$ であるから

$$x = 2\sqrt{3}$$

ゆえに、底面の半径は $2\sqrt{3} \text{ cm}$

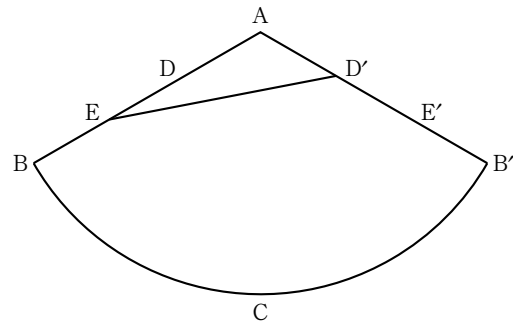
また、

$$AE = \frac{2}{3} AB = \frac{2}{3} \times 3x = \frac{2}{3} \times 3 \times 2\sqrt{3} = \mathbf{4\sqrt{3} \text{ cm}}$$

(2) [この種の問題は展開図を描いてひもが直線になるようにするのがポイント]

展開図は次のようになる。底面の円は省略してある。求める糸の長さは線分 ED' の長さと一致する。した

がって、 ED' の長さを求めればよい。



[展開図の扇形の中心角を求める]

扇形の中心角を x° とすると、「扇形の弧長 = 底面の円周」が成り立つから

$$2\pi \times 6\sqrt{3} \times \frac{x}{360} = 2\pi \times 2\sqrt{3}$$

両辺を 2π で割って

$$6\sqrt{3} \times \frac{x}{360} = 2\sqrt{3}$$

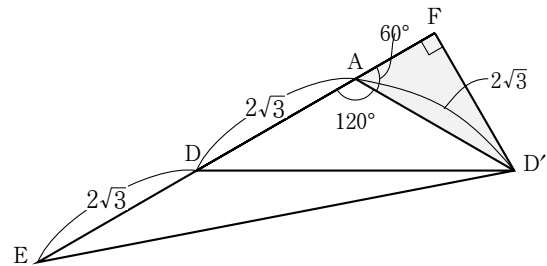
両辺を $2\sqrt{3}$ で割って

$$3 \times \frac{x}{360} = 1$$

$$x = 120$$

したがって、中心角は 120° である。

ここで線分 AD を A の方に延長した半直線 DA 上に $\angle AFD' = 90^\circ$ となるように点 F をとり、 $\triangle AD'F$ に注目する。



$\angle FAD' = 60^\circ$, $\angle AFD' = 90^\circ$ であるから、 $\triangle AD'F$ は $30^\circ, 60^\circ, 90^\circ$ の三角定規である。よって、

$$AF = \frac{1}{2} AD' = \frac{1}{2} \times 2\sqrt{3} = \sqrt{3}$$

$$FD' = \sqrt{3} AF = \sqrt{3} \times \sqrt{3} = 3$$

そこで、直角三角形 $\triangle FED'$ で三平方の定理を用いると

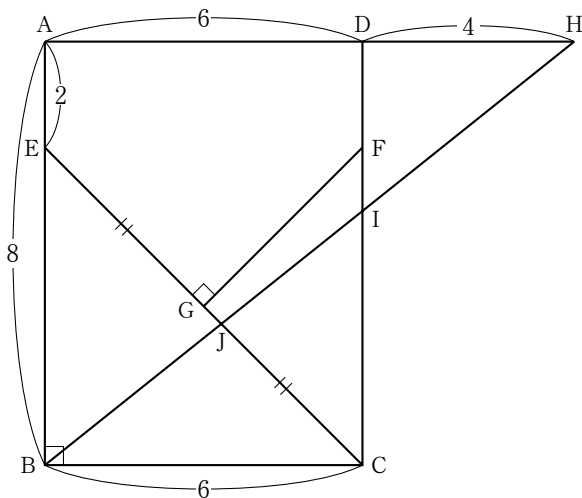
$$\begin{aligned} ED'^2 &= EF^2 + FD'^2 \\ &= (\sqrt{3} + 2\sqrt{3} + 2\sqrt{3})^2 + 3^2 \\ &= (5\sqrt{3})^2 + 9 \\ &= 75 + 9 \\ &= 84 \end{aligned}$$

$$\text{よって } ED' = \sqrt{84} = \mathbf{2\sqrt{21} \text{ cm}}$$

注 いちばん最後の三平方の定理を利用する計算では、図のように $\triangle AFD'$ を考えるのが定番になっている。

高校で習う余弦定理(よげんていり)を使えば、ただちに $2\sqrt{21}$ を求めることができる。お楽しみに。

5



(1) [底辺をCG, 高さをFGとすればいいように見えるがどうだろう]

BE = BC = 6 であるから $\triangle EBC$ は $45^\circ, 45^\circ, 90^\circ$ の直角二等辺三角形である。

よって

$$CE = \sqrt{2} \times BC = 6\sqrt{2}$$

$$CG = \frac{1}{2}CD = \frac{1}{2} \times 6\sqrt{2} = 3\sqrt{2}$$

AB // CD だから錯角は等しい。

よって $\angle GCF = \angle GEB = 45^\circ$

したがって, $\triangle CFG$ は直角二等辺三角形であり, $GF = GC = 3\sqrt{2}$ であるから,

$$\triangle CFG = \frac{1}{2} \times 3\sqrt{2} \times 3\sqrt{2} = 9\text{cm}^2$$

(2) $\triangle CFG$ は直角二等辺三角形であるから

$$CF = \sqrt{2}CG = \sqrt{2} \times 3\sqrt{2} = 6$$

よって $DF = 8 - 6 = 2 \dots \dots \textcircled{1}$

DH // BC であるから, 平行線と比例の関係から

$$DI : IC = DH : BC$$

$$= 4 : 6$$

$$= 2 : 3$$

よって

$$CI = \frac{3}{2+3} \times CD$$

$$= \frac{3}{5} \times 8 = \frac{24}{5}\text{cm}$$

(3) [一般の四角形の面積の公式はない。したがって, $\triangle CGE$ から $\triangle CIJ$ を引く方針で解く]

(2) の過程から

$$CJ : JE = CI : BE$$

$$= \frac{24}{5} : 6$$

$$= 24 : 30 = 4 : 5$$

したがって

$$CJ : JE = CI : BE$$

$$= \frac{24}{5} : 6$$

$$= 24 : 30 = 4 : 5$$

したがって

$$CJ = \frac{4}{4+5} \times CE$$

$$= \frac{4}{9} \times 6\sqrt{2}$$

$$= \frac{8\sqrt{2}}{3}$$

以上から

$$CG : CJ = 3\sqrt{2} : \frac{8\sqrt{2}}{3} = 9 : 8$$

$$CF : CI = 6 : \frac{24}{5} = 30 : 24 = 5 : 4$$

よって

$$\triangle CIJ = \frac{8}{9} \times \frac{4}{5} \times \triangle CFG$$

$$= \frac{8}{9} \times \frac{4}{5} \times 9$$

$$= \frac{32}{5}$$

したがって, 求める四角形FGJIの面積は

$$\triangle CFG - \triangle CIJ = 9 - \frac{32}{5}$$

$$= \frac{45}{5} - \frac{32}{5}$$

$$= \frac{13}{5}\text{cm}^2$$

☞注 $\triangle CIJ$ の面積を求めるとき, 底辺をICとし, 点JからCIに垂線JKを下ろし, JKを高さと考えてもよい。

$CJ : JE = 4 : 5$ であるから

$$JK = \frac{4}{9} \times BC$$

$$= \frac{4}{9} \times 6$$

$$= \frac{8}{3}$$

よって

$$\triangle CIJ = \frac{1}{2} \times CI \times JK$$

$$= \frac{1}{2} \times \frac{24}{5} \times \frac{8}{3}$$

$$= \frac{32}{5}$$

☞注2 B, G, Fは一直線上にある。それを利用してみよう。四角形FGJIの面積をSとすると

$$S = \triangle BIF - \triangle BJG$$

ここで

$$IF = CF - CI = 6 - \frac{24}{5} = \frac{6}{5}$$

